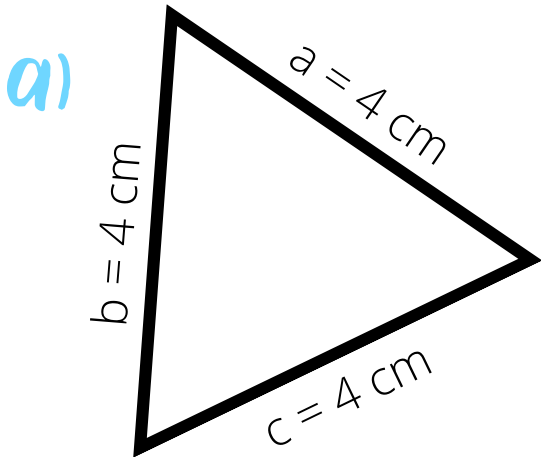


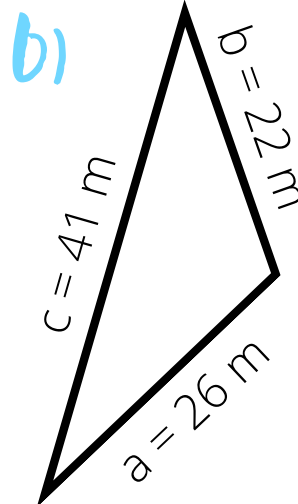


Lösungsblatt: Umfang Dreieck

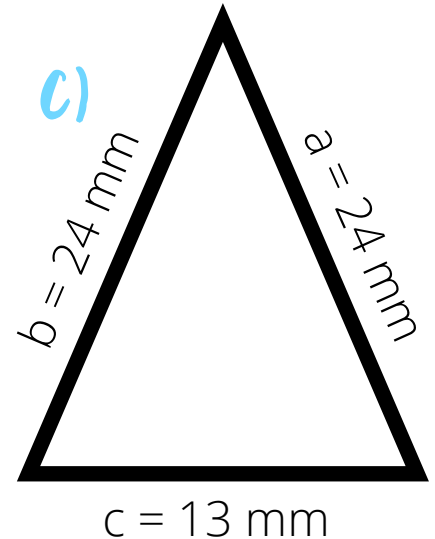
1. Berechne den Umfang der Dreiecke!



$$u = 12 \text{ cm}$$



$$u = 89 \text{ m}$$



$$u = 61 \text{ mm}$$

2. Ergänze die fehlenden Zahlen!

a)

b)

c)

d)

$a = 15 \text{ m}$	$a = 17 \text{ mm}$	$a = 36 \text{ cm}$	$a = 21 \text{ m}$
$b = 12 \text{ m}$	$b = 11 \text{ mm}$	$b = 32 \text{ cm}$	$b = 16 \text{ m}$
$c = 18 \text{ m}$	$c = 8 \text{ mm}$	$c = 43 \text{ cm}$	$c = 17 \text{ m}$
$u = 45 \text{ m}$	$u = 36 \text{ mm}$	$u = 111 \text{ cm}$	$u = 54 \text{ m}$