

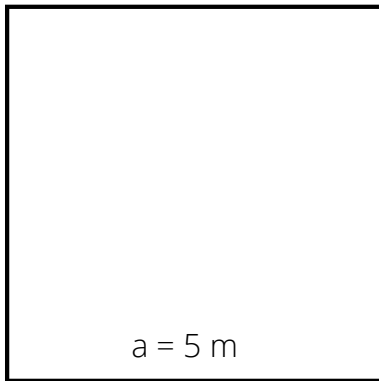


Arbeitsblatt zum Quadrat

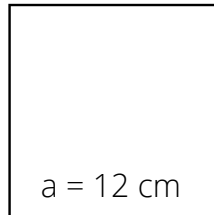


1. Berechne den Umfang der Quadrate!

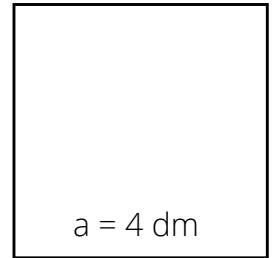
a)



b)

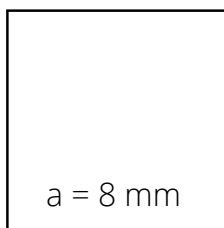


c)

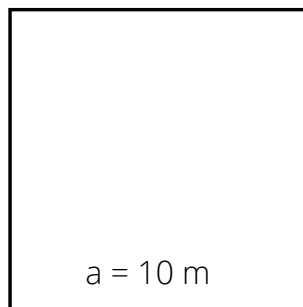


2. Berechne den Flächeninhalt der Quadrate und achte dabei auf die richtige Einheit!


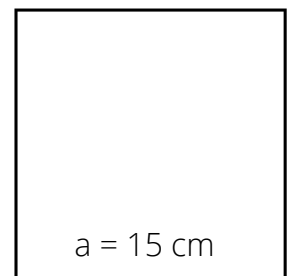
a)



b)



c)



3. Kreuze alle wahren Aussagen an!

Ein Quadrat ist immer auch ein Rechteck.

$u(\text{Quadrat}) = a + b + c$

Die Winkel eines Quadrats sind alle 80° groß.

Ein Quadrat ist immer auch ein Trapez.

Die Einheit einer Fläche erhält die Quadratzahl "2".

Die Seiten eines Quadrats sind gleich lang.

