







Lösungen zum Thema Verdoppeln

Übung 1

Verdopple die Symbole und zeichne sie in die rechte Tabellenspalte.

Übung 2

Wie lautet das Ergebnis der Verdopplung?

$$3 + 3 = 6$$

$$2 + 2 = 4$$

$$6 + 6 = 12$$

Übung 3

Verdopple die Einer und Zehner und rechne die Teilergebnisse anschließend zusammen.

$$32 + 32 = 64$$

$$26 + 26 = 52$$

$$30 + 30 = 60$$

$$20 + 20 = 40$$

$$2 + 2 = 4$$

$$6 + 6 = 12$$