




Arbeitsblatt zum Thema Verdoppeln

Übung 1

Verdopple die Symbole und zeichne sie in die rechte Tabellenspalte.

Übung 2

Wie lautet das Ergebnis der Verdopplung?

$$3 + 3 =$$

$$2 + 2 =$$

$$6 + 6 =$$

Übung 3

Verdopple die Einer und Zehner und rechne die Teilergebnisse anschließend zusammen.

$$32 + 32 =$$

$$26 + 26 =$$